

1) «Это определенные предписания, согласно которым наш долг — управлять своей жизнью и своими поступками в любых обстоятельствах» (Марк Туллий Цицерон)

конституция

0

2) «Человек является прежде всего сыном своей страны, гражданином своего отечества, горячо принимающим к сердцу его интересы» (В. Г. Белинский)

соблюдать закон

0

«Под ее именем мы разумеем не только внешние приличия, но всю внутреннюю основу побуждений».

(Я. Коменский)

конституция

0

Ответ:

По 3 балла за каждую верную позицию, всего – 9 баллов.

4. Вставьте пропущенные в тексте слова.

Умственный и физический труд — две взаимосвязанные стороны человеческой жизни. В отличие от животных, действующих инстинктивно, человек строит свою практическую деятельность целенаправленно, в соответствии с предварительно выработанной целью, программой. С возникновением классов, классов и государства труд становится привилегией господствующего класса, а вся тяжесть труда падает на долю угнетенных масс. В условиях революции все более значительные слои интеллигенции начинают участвовать в непосредственном производственном процессе. В будущем оба вида труда станут элементами целостной деятельности всесторонне развитого человека, для которого участие в делах общества является первой жизненной потребностью.

- | | |
|----------------------------|---------------------------|
| 1. Потребность | 8. Общество |
| 2. Труд | 9. Умственный |
| 3. Деятельность | 10. Физический |
| 4. Частная собственность | 11. <u>Общение</u> |
| 5. Аграрная | 12. Институт |
| 6. Научно-техническая | 13. Созидательный |
| 7. <u>Сознательный</u> | 14. Творчество |

Ответ:

По 2 балла за каждую верную позицию, всего – 18 баллов.

10

5. Ниже приведен ряд понятий, одно из которых лишнее. Лишний элемент ряда подчеркните и объясните, почему вы так решили.

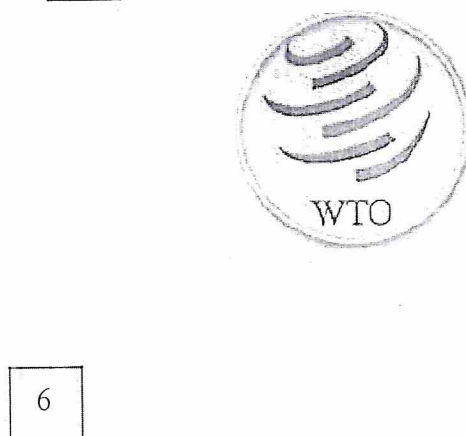
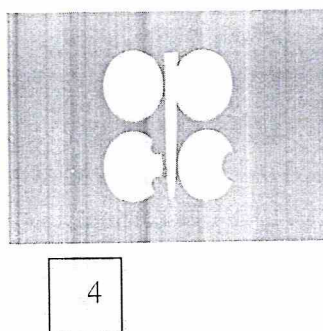



Мамины украшения, свадебный альбом, бабушкин пирог, дедушкины награды, елочные игрушки.

потому что все связано с семьей, а игрушки нет

Ответ

2 балл – за верно указанный лишний элемент, до 5 баллов за верное обоснование. Всего 7 баллов.

6. Из приведенных ниже изображений выберите те, которые относятся к символам международных организаций, защищающих права и свободы людей. Назовите их. Свой ответ запишите в таблицу.




| Номер изображения | Название организации |
|-------------------|----------------------|
| | |

| | |
|--|--|
| | |
| | |

2 балла за каждое верное указание организации, 2 балла за верно указанное название организации. Всего – 12 баллов.

7. Решите кроссворд.



По горизонтали:

1. Реальная причина социальных действий, лежащая в основе деятельности человека
3. Действия, которые должен выполнять гражданин на основе законодательных актов, нормативных документов, юридических норм и правил
6. Свойство человека, которое проявляется в его уважении к самому себе и окружающим его людям

5

7. Система нравственных правил, определяющих и регулирующих поведение человека и его поступки
8. Необходимое для жизни человека, нужда в чем-либо
9. Основной документ, удостоверяющий личность, гражданство и другие данные его владельца
11. Особая форма организации власти, управляющей обществом на определенной территории, обладающая независимостью во внешних и внутренних делах

По вертикали:

2. Все формы объединения людей и их взаимоотношения между собой
4. Разумное, мыслящее существо, чья деятельность направлена на преобразование окружающего мира
5. Деятельность, дающая возможность человеку реализовывать свои желания, выражать свои фантазии и доставляющая ему удовольствие
8. Возможности удовлетворять свои основные потребности, обеспечивающие развитие личности и ее полноценное участие в жизни общества
10. Возможность беспрепятственно, без стеснения и принуждения действовать в какой-нибудь области общественной жизни
12. Деятельность человека, направленная на создание материальных и духовных благ, необходимых для удовлетворения потребностей общества и личности
13. Люди, являющиеся родственниками, живущие вместе и ведущие совместное хозяйство

По 1 баллу за каждое верно указанное слово, всего – 13 баллов.

8. Представьте, что вам необходимо выступить в классе с сообщением на тему «Уважения все возрасты достойны». Составьте план своего рассказа. Он должен содержать не менее трех пунктов.

Ответ:

1. Вступление
2. Почему все возрасты достойны уважения?
3. Как его получают?

Оценивается качество и количество приведенных пунктов плана. 5-4 пункта – 15 баллов


2-3 пункта – 12 баллов


1-2 пункта – 6 баллов


Менее – 0 баллов

Максимальный балл за ответ до 15 баллов.

Жюри:

Жиреева Ю. А. 

Жигарович Л. В. 

Васильева О. А. 

(51)

1. Задания для выбора ответа («да» — если высказывание верно, «нет» — если высказывание неверно). Внесите свои ответы в таблицу.

- 1) Флаг Российской Федерации может быть поднят во время торжественных мероприятий, проводимых предприятиями, учреждениями и организациями, а также во время семейных торжеств.
- 2) С 14 лет без согласия ребенка нельзя изменить его имя, отчество и фамилию.
- 3) Народы России, несмотря на различия в языках, религии, обычаях и быте, тесно связаны общностью исторических судеб.
- 4) Отличительной чертой человека является способность добывать пищу.
- 5) Детство считается самым беззаботным периодом в жизни человека, потому что взрослые предоставляют ребенку полную самостоятельность в поступках.

| 1 | 2 | 3 | 4 | 5 |
|-------|------|------|-------|------|
| нет 2 | да 2 | да 2 | нет 2 | да 0 |

| | | | | |
|--|--|--|--|--|
| | | | | |
| | | | | |

По 2 балла за каждый верный ответ, всего – 10 баллов.

2. Установите соответствие между правами и обязанностями российских граждан. Свой ответ внесите в таблицу.

- | | |
|----------------|---|
| А) права | 1) получение образования |
| Б) обязанности | 2) свободный выбор места жительства |
| | 3) соблюдение законов |
| | 4) выбор места отдыха |
| | 5) забота о детях и престарелых родителях |
| | 6) неприкосновенность жилища |
| | 7) свобода мысли и слова |
| | 8) служба в рядах Вооруженных сил |

| А | Б |
|---------------|---------|
| 1, 2, 4, 6, 7 | 3, 5, 8 |

Ответ:

| А | Б |
|---------------|---------|
| 1, 2, 4, 6, 7 | 3, 5, 8 |

По 2 балла за каждую верную позицию, всего - 16 баллов.

3. Прочитайте высказывания известных людей. О каком обществоведческом понятии они говорят? Свой ответ запишите.

16